

3.4 부등식

부등식 - 부등호를 사용하여 수 또는 식의 값의 대소 관계를 나타낸 식.
실수에 관한 대소관계.

부등식의 기본 성질

(1) $a > b, b > c$ 이면 $a > c$

(2) $a > b$ 이면 $a + c > b + c, a - c > b - c$


(3) $a > b, c > 0$ 이면 $ac > bc, \frac{a}{c} > \frac{b}{c}$

(4) $a > b, c < 0$ 이면 $ac < bc, \frac{a}{c} < \frac{b}{c}$

예제 ① 다음 부등식을 풀어라.

$$(1) x - 4 < 3(x + 2)$$

$$(2) \frac{2}{3}x + 1 < \frac{1-x}{6}$$




[풀이] (1) 괄호를 풀고 이항하여 정리하면 $-2x < 10$
양변을 -2 로 나누면

$$\therefore x > -5$$

(2) 양변에 6을 곱하면 $4x + 6 < 1 - x$
이항하여 정리하면 $5x < -5$
양변을 5로 나누면

$$\therefore x < -1$$



절대값 포함한 일차부등식

절대값을 포함한 일차부등식

$a > 0$ 일 때

$$|x| < a \Leftrightarrow -a < x < a$$

$$|x| > a \Leftrightarrow x < -a \text{ 또는 } x > a$$

예제 2 다음 부등식을 풀어라.

(1) $|3x - 1| < 4$

(2) $|2x - 7| \geq 3$

(3) $|x + 3| + |x - 2| \leq 7$



[풀이] (1) 주어진 부등식은 $-4 < 3x - 1 < 4$

$$3x - 1 > -4 \text{에서 } 3x > -3 \quad \therefore x > -1$$

$$3x - 1 < 4 \text{에서 } 3x < 5 \quad \therefore x < \frac{5}{3}$$


$$\text{따라서 구하는 해는 } -1 < x < \frac{5}{3}$$

(2) 주어진 부등식은 $2x - 7 \leq -3$ 또는 $2x - 7 \geq 3$

$$\therefore 2x \leq 4 \text{ 또는 } 2x \geq 10$$

따라서 구하는 해는

$$x \leq 2 \text{ 또는 } x \geq 5$$




(3) (i) $x < -3$ 일 때, $-(x+3)-(x-2) \leq 7$
 $-2x \leq 8$ 에서 $x \geq -4 \quad \therefore -4 \leq x < -3$

(ii) $-3 \leq x < 2$ 일 때, $x+3-(x-2) \leq 7$
 $5 \leq 7$ 이므로 항상 성립한다. $\therefore -3 \leq x < 2$

(iii) $x \geq 2$ 일 때, $(x+3)+(x-2) \leq 7$
 $2x \leq 6$ 에서 $x \leq 3 \quad \therefore 2 \leq x \leq 3$

구하는 해는 (i), (ii), (iii)의 합집합이므로 $-4 \leq x \leq 3$



이차 부등식 → 모든 항을 좌변으로 이항하고 인수분해 하여 푼다.

이차부등식의 해

이차방정식 $ax^2 + bx + c = 0$ ($a > 0$)이 서로 다른 두 실근 α, β ($\alpha < \beta$)를 가질 때

(1) $ax^2 + bx + c > 0$ 의 해는 $x < \alpha$ 또는 $x > \beta$

(2) $ax^2 + bx + c < 0$ 의 해는 $\alpha < x < \beta$



→ (설명) $x^2 - x - 6 > 0$

$$(x-3)(x+2) > 0$$

x	$x < -2$	$x = 2$	$-2 < x < 3$	$x = 3$	$x > 3$
$x - 3$	-	-	-	0	+
$x + 2$	-	0	+	+	+
$(x - 3)(x + 2)$	+ yes	0 no	- no	0 no	+ yes

따라서 $x^2 - x - 6 > 0$ 의 해는 $x < -2$ 또는 $x > 3$

예제 ③ — 다음 부등식을 풀어라.

$$(1) -2x^2 + 3x - 1 \geq 0$$

$$(2) \frac{x+1}{x-1} \leq -1$$




[풀이] (1) 주어진 부등식의 양변에 -1 을 곱하면

$$2x^2 - 3x + 1 \leq 0$$

$2x^2 - 3x + 1 = (2x - 1)(x - 1)$ 이므로 구하는 부등식의 해는

$$\frac{1}{2} \leq x \leq 1$$



(2) $(x-1)^2$ 을 양변에 곱하면

$$(x+1)(x-1) \leq -(x-1)^2$$

좌변으로 이항하여 인수분해하면


$$(x-1)[(x+1) + (x-1)] \leq 0$$

$$2(x-1)x \leq 0$$

이므로 $0 \leq x \leq 1$ 그러나 $x=1$ 일 때 분모가 0이므로 구하는 해는

$$0 \leq x < 1$$


... ●



예제 4 — 다음 연립부등식을 풀어라.

$$(1) \begin{cases} 3x - 2 \geq 1 & \dots \textcircled{1} \\ x^2 - x - 6 < 0 & \dots \textcircled{2} \end{cases}$$

$$(2) \begin{cases} x^2 - 3x + 2 > 0 & \dots \textcircled{1} \\ x^2 - x - 12 \leq 0 & \dots \textcircled{2} \end{cases}$$



[풀이] (1) 부등식 ①을 풀면 $3x \geq 3$


$$\therefore x \geq 1 \dots \textcircled{3}$$

부등식 ②를 풀면 $(x+2)(x-3) < 0$

$$\therefore -2 < x < 3 \dots \textcircled{4}$$

따라서 구하는 연립부등식의 해는 ③과 ④를 동시에 만족시키는 x 의 값이므로

$$\therefore 1 \leq x < 3$$



(2) 부등식 ①을 풀면 $x^2 - 3x + 2 = (x - 1)(x - 2) > 0$


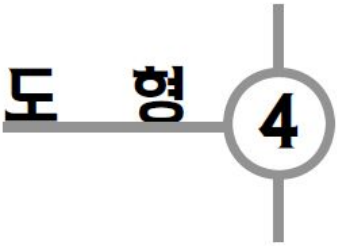
$$\therefore x < 1 \text{ 또는 } x > 2 \dots \textcircled{3}$$

부등식 ②를 풀면 $x^2 - x - 12 = (x + 3)(x - 4) \leq 0$

$$\therefore -3 \leq x \leq 4 \dots \textcircled{4}$$

따라서 구하는 연립부등식의 해는 ③과 ④를 동시에 만족시키는 x 의 값이므로


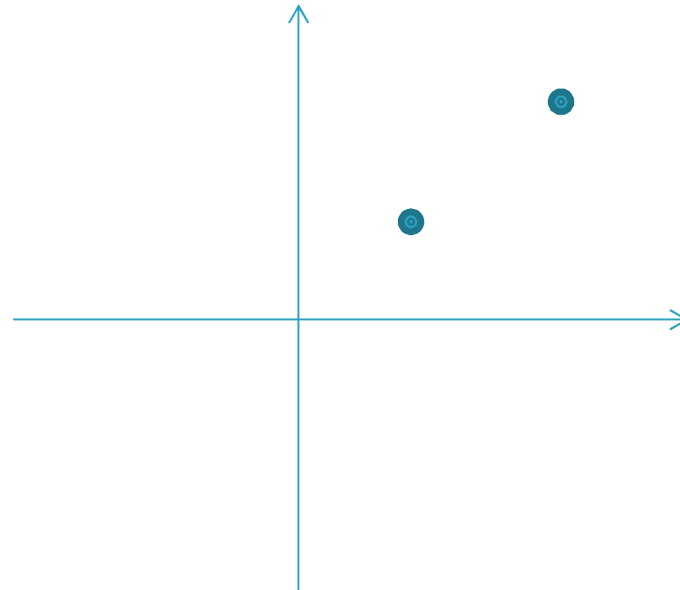
$$\therefore -3 \leq x < 1 \text{ 또는 } 2 < x \leq 4 \dots \bullet$$



4.1 점과 좌표

수직선 위의 두 점 $A(x_1)$, $B(x_2)$ 사이의 거리는

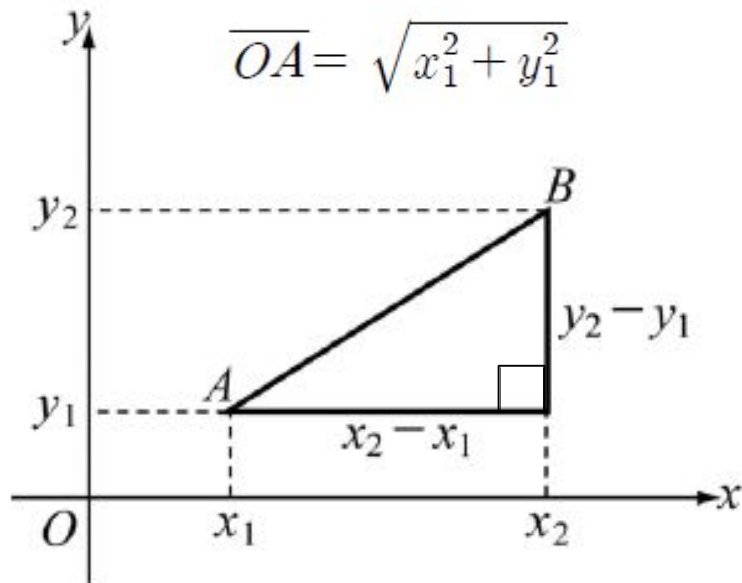
$$\overline{AB} = |x_2 - x_1|$$



$$\overline{AB} = \sqrt{(x_2 - x_1)^2 + (y_2 - y_1)^2}$$

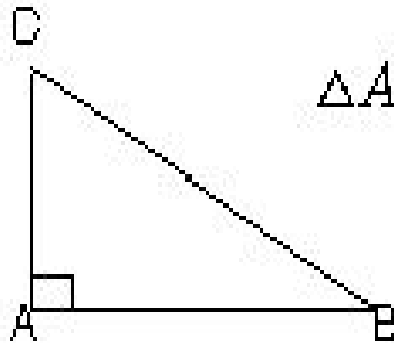
피타고라스 정리

$$\overline{OA} = \sqrt{x_1^2 + y_1^2}$$



피타고라스의 정리

▶ 직각삼각형에서 직각을 낀 두 변의 길이의 제곱의 합은 빗변의 길이의 제곱과 같다.

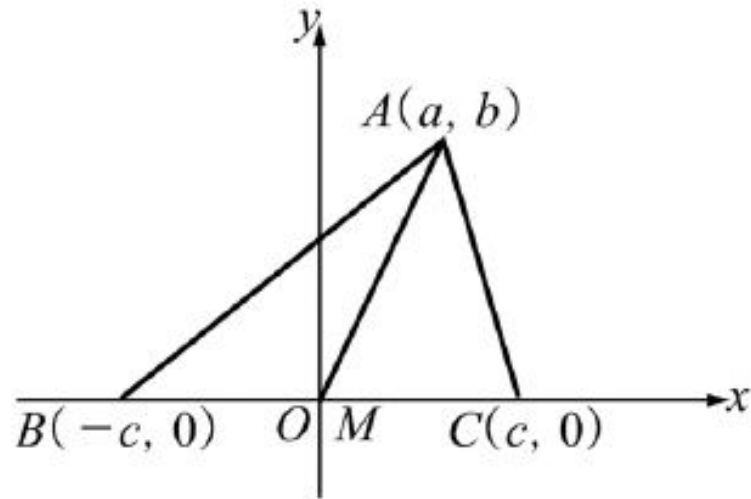


$\triangle ABC$ 에서 $\angle A = 90^\circ$ 이면

$$\overline{AB}^2 + \overline{AC}^2 = \overline{BC}^2$$

예제 1 삼각형 ABC 에서 변 BC 의 중점을 M 이라 할 때, 다음을 증명하라.

$$\overline{AB}^2 + \overline{AC}^2 = 2(\overline{AM}^2 + \overline{BM}^2)$$



[풀이] 직선 BC 를 x 축, \overline{BC} 의 수직이등분선을 y 축으로 잡고 꼭지점의 좌표를 각각

$$A(a, b), B(-c, 0), C(c, 0)$$

으로 놓으면

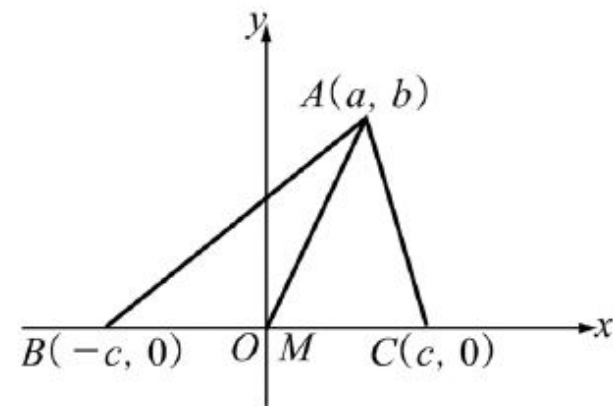
$$\begin{aligned}\overline{AB}^2 + \overline{AC}^2 &= (a+c)^2 + b^2 + (a-c)^2 + b^2 \\ &= 2(a^2 + b^2 + c^2)\end{aligned}$$

한편

$$\overline{AM}^2 = a^2 + b^2, \quad \overline{BM}^2 = c^2$$

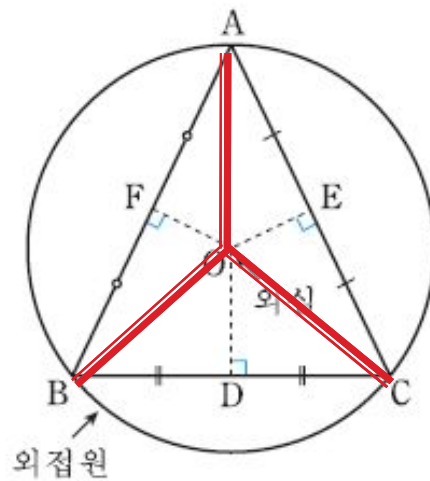
따라서

$$\overline{AB}^2 + \overline{AC}^2 = 2(\overline{AM}^2 + \overline{BM}^2)$$



예제 2 — 세 점 $A(5, 2)$, $B(1, -1)$, $C(1, 4)$ 를 꼭지점으로 하는 삼각형의 외심의 좌표를 구하여라.

아래 그림의 점 O와 같이 삼각형의 세 변의 수직이등분선의 교점을 삼각형 ABC의 **외심**이라 하고, 삼각형의 세 꼭지점을 전부 지나는 원을 삼각형 ABC의 **외접원**이라고 한다. 외심은 외접원의 중심과 일치한다. 따라서, 외심으로부터 삼각형 ABC의 세 꼭지점에 이르는 거리는 모두 같다.



O (x, y)

[풀이] 외심의 좌표를 $O(x, y)$ 라 하면

$$\overline{OA} = \overline{OB} = \overline{OC}$$

$$\overline{OA}^2 = \overline{OB}^2 \text{에서}$$

$$(x-5)^2 + (y-2)^2 = (x-1)^2 + (y+1)^2$$

$$\therefore 8x + 6y = 27 \quad \dots \textcircled{1}$$


$$\overline{OB}^2 = \overline{OC}^2 \text{에서}$$

$$(x-1)^2 + (y+1)^2 = (x-1)^2 + (y-4)^2$$

$$10y = 15 \quad \therefore y = \frac{3}{2}$$

$$\textcircled{1} \text{에 의해 } x = \frac{9}{4}$$

$$\therefore O\left(\frac{9}{4}, \frac{3}{2}\right)$$



선분 AB 위의 점 P 에 대하여

$$\overline{AP} : \overline{PB} = m : n \quad (m, n > 0)$$

일 때, 점 P 는 선분 AB 를 $m : n$ 으로 내분한다고 하고, 점 P 를 내분점이라 한다.

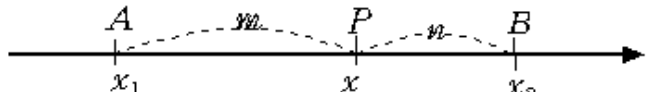
두 점 $A(x_1, y_1), B(x_2, y_2)$ 에 대하여 \overline{AB} 를 $m : n$ ($m, n > 0$)으로 내분하는 점 P 의 좌표는

$$\underline{\underline{P\left(\frac{mx_2 + nx_1}{m+n}, \frac{my_2 + ny_1}{m+n}\right)}}$$

특히 선분 AB 의 중점 M 의 좌표는 **$m=n$**

$$\underline{\underline{M\left(\frac{x_1 + x_2}{2}, \frac{y_1 + y_2}{2}\right)}}$$

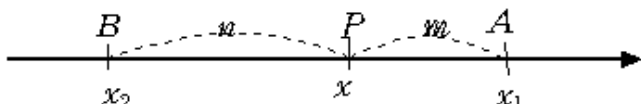
i) $x_1 < x_2$ 일 때 ($x_1 < x < x_2$)



$\overline{AP} = x - x_1, \overline{PB} = x_2 - x$ 이고, $(x - x_1) : (x_2 - x) = m : n$ 이므로

$$x = \frac{mx_2 + nx_1}{m+n}$$

ii) $x_1 > x_2$ 일 때 ($x_1 > x > x_2$)



$\overline{AP} = x_1 - x, \overline{PB} = x - x_2$ 이고, $(x_1 - x) : (x - x_2) = m : n$ 이므로

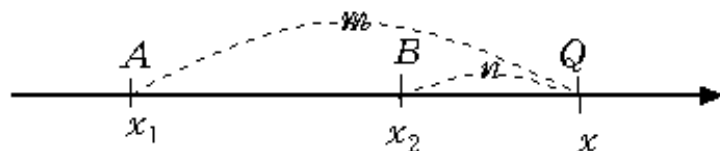
$$x = \frac{mx_2 + nx_1}{m+n}$$

수직선 위의 두 점 $A(x_1), B(x_2)$ 에 대하여 \overline{AB} 를 $m:n$ ($m>0, n>0,$

$m \neq n$)으로 외분하는 점 $Q(x)$ 의 x 좌표는

$$x = \frac{mx_2 - nx_1}{m - n}$$

i) $m > n$ 일 때

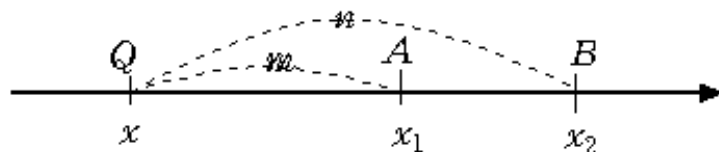


$\overline{AQ} = x - x_1, \overline{QB} = x - x_2$ 이고, $\overline{AQ} : \overline{QB} = m : n$ 이므로

$$(x - x_1) : (x - x_2) = m : n$$

$$\therefore x = \frac{mx_2 - nx_1}{m - n}$$

ii) $m < n$ 일 때




$\overline{AQ} = x_1 - x, \overline{QB} = x_2 - x$ 이고, 이므로 $\overline{AQ} : \overline{QB} = m : n$ 이므로

$$(x_1 - x) : (x_2 - x) = m : n$$

$$\therefore x = \frac{mx_2 - nx_1}{m - n}$$

예제 3 — 점 $(1, 2)$ 와 점 (x, y) 가 점 $(-1, 4)$ 에 대하여 대칭이 되도록 (x, y) 를 구하여라.


중점 ^^



[풀이] 점 $(-1, 4)$ 가 점 $(1, 2)$ 와 점 (x, y) 의 중점이므로

$$\left(\frac{1+x}{2}, \frac{2+y}{2}\right) = (-1, 4)$$

이다. 따라서 $x = -3, y = 6$ 즉 $(x, y) = (-3, 6)$

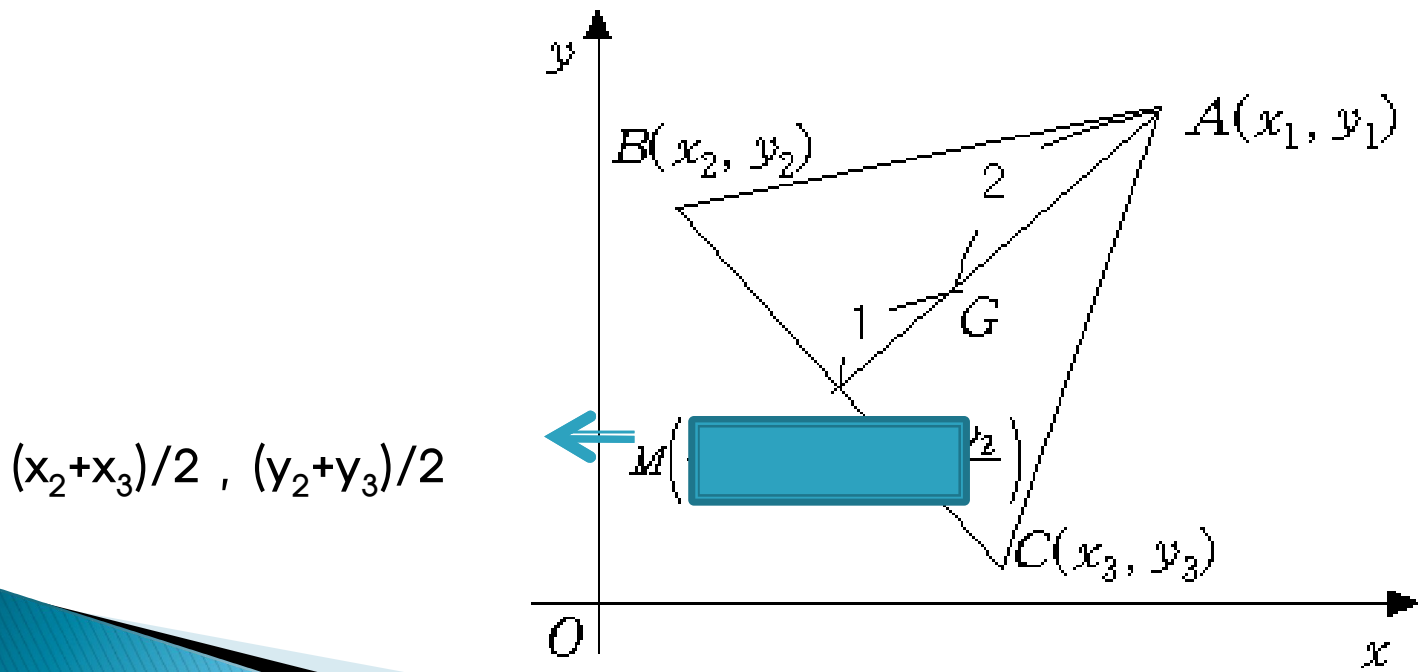


예제 4

세 점 $A(x_1, x_2)$, $B(x_2, y_2)$, $C(x_3, y_3)$ 을 꼭지점으로 하는 삼각형 ABC 의 무게중심 G 의 좌표는

$$\left(\frac{x_1 + x_2 + x_3}{3}, \frac{y_1 + y_2 + y_3}{3} \right)$$

임을 보여라.



[풀이] 변 BC 의 중점을 M 이라 하면

$$M\left(\frac{x_2 + x_3}{2}, \frac{y_2 + y_3}{2}\right)$$

무게중심 G 는 선분 AM 를 $2:1$ 로 내분하는 점이므로
 $G(x, y)$ 의 좌표는

$$x = \frac{2 \cdot \frac{x_2 + x_3}{2} + x_1}{2 + 1} = \frac{x_1 + x_2 + x_3}{3}$$

$$y = \frac{2 \cdot \frac{y_2 + y_3}{2} + y_1}{2 + 1} = \frac{y_1 + y_2 + y_3}{3}$$

따라서 $G\left(\frac{x_1 + x_2 + x_3}{3}, \frac{y_1 + y_2 + y_3}{3}\right)$

... ◉

