

제5주 이산확률분포모형  
hylee@silla.ac.kr

# 확률 및 통계 (2)

# 제 5장 이산확률분포모형

이산확률분포모형  
이산확률변수의 합의 분포

# 제 1절 이산 균일(균등)분포

[정의] 이산균일분포

확률변수  $X$ 가 똑같은 확률로서  $n$ 개의 서로다른 값을 갖는다면  $X$ 의 확률분포는 다음과 같다.


$$P(X = x) = 1/n, \quad x = 1, 2, \dots, n$$

이 확률분포를 이산균일분포

(discrete uniform distribution)라 한다.

# 예제 1

이산 균일분포가 확률함수임을 보이시오.





[풀이]

$$P(X = x) = \frac{1}{n} \geq 0, \quad x = 1, 2, 3, \dots, n$$

이므로

$$\sum_{x=1}^n \frac{1}{n} = n \cdot \frac{1}{n} = 1$$

이다. 그러므로 이산균등분포는 확률함수이다.

## 제 2절 베르누이 분포

각 시행이 성공(S) 과 실패(F) 로 되어있는 시행을  
독립 적으로  $n$ 회 실시한 시행 열을  
**베르누이 시행열** (Bernoulli Trials) 이라 한다.

## [정의] 베르누이 분포

시행의 결과가 성공과 실패 두 가지 경우만 일어나는 시행에서 확률변수  $X$  를 성공의 횟수 (만일 결과가 성공이면  $X = 1$  이라하고 결과가 실패일 때  $X = 0$  이라한다.)라 하면  $X$ 의 확률분포는 다음과 같다.

$$P(X = x) = p^x(1-p)^{1-x}, \quad x = 0,1$$

이 확률분포를 베르누이분포 (Bernoulli distribution)라 하고,  $B(1, p)$ 로 쓴다.

# 예제 3

베르누이 분포가 확률함수임을 보이시오.





[풀이]

$$P(X = x) = p^x (1 - p)^{1-x} \geq 0, \quad x = 0, 1$$


이고,

$$\sum_{x=0}^1 p^x (1 - p)^{1-x} = p + (1 - p) = 1$$

이므로, 베르누이분포는 확률함수이다.

# 제 3절 이항분포

- ◎ 이항분포의 정의
- ◎ 이항분포의 내용



## [정의] 이항분포

확률변수  $X$ 가 독립인  $n$ 회 베르누이시행

에서 성공  $S$ 가 일어나는 횟수라면,  $n$ 회의 시행에서  $S$ 가 일어나는 경우의 수

는  $\binom{n}{x}$  가지이므로,  $P(S) = p, P(F) = 1 - p$

라 할 때

$$P(X = x) = \binom{n}{x} p^x (1 - p)^{n-x}, x = 0, 1, \dots, n$$

이다. 이것을 이항분포 (binomial distribution)라 하고,  $B(n, p)$ 로 나타낸다.

# 예제 5

이항분포가 확률  
함수임을 보이시  
오



[풀이]

$$P(X = x) = \binom{n}{x} p^x (1-p)^{n-x} \geq 0,$$

$$x = 0, 1, 2, \dots, n$$

이항정리

이므로,

$$\begin{aligned} \sum_{x=0}^n \binom{n}{x} p^x (1-p)^{n-x} &= \{p + (1-p)\}^n \\ &= 1 \end{aligned}$$

이므로, 이항분포는 확률함수이다.

## 예제 6

1개의 동전을 4회 던져서 앞면이 나오는 횟수를 확률변수  $X$ 로 나타낼 때,  $X$ 의 확률분포 및 분포함수를 구하시오.

[풀이]

$X$ 는 베르누이 시행을 4번 시행할 때의 성공의 횟수이므로 이항분포를 따른다.

즉,  $X = B(4, \frac{1}{2})$  이다. 따라서

$$\begin{aligned} P(X = x) &= \binom{4}{x} \left(\frac{1}{2}\right)^x \left(\frac{1}{2}\right)^{4-x} \\ &= \binom{4}{x} \left(\frac{1}{2}\right)^4, \quad x = 0, 1, 2, 3, 4 \end{aligned}$$

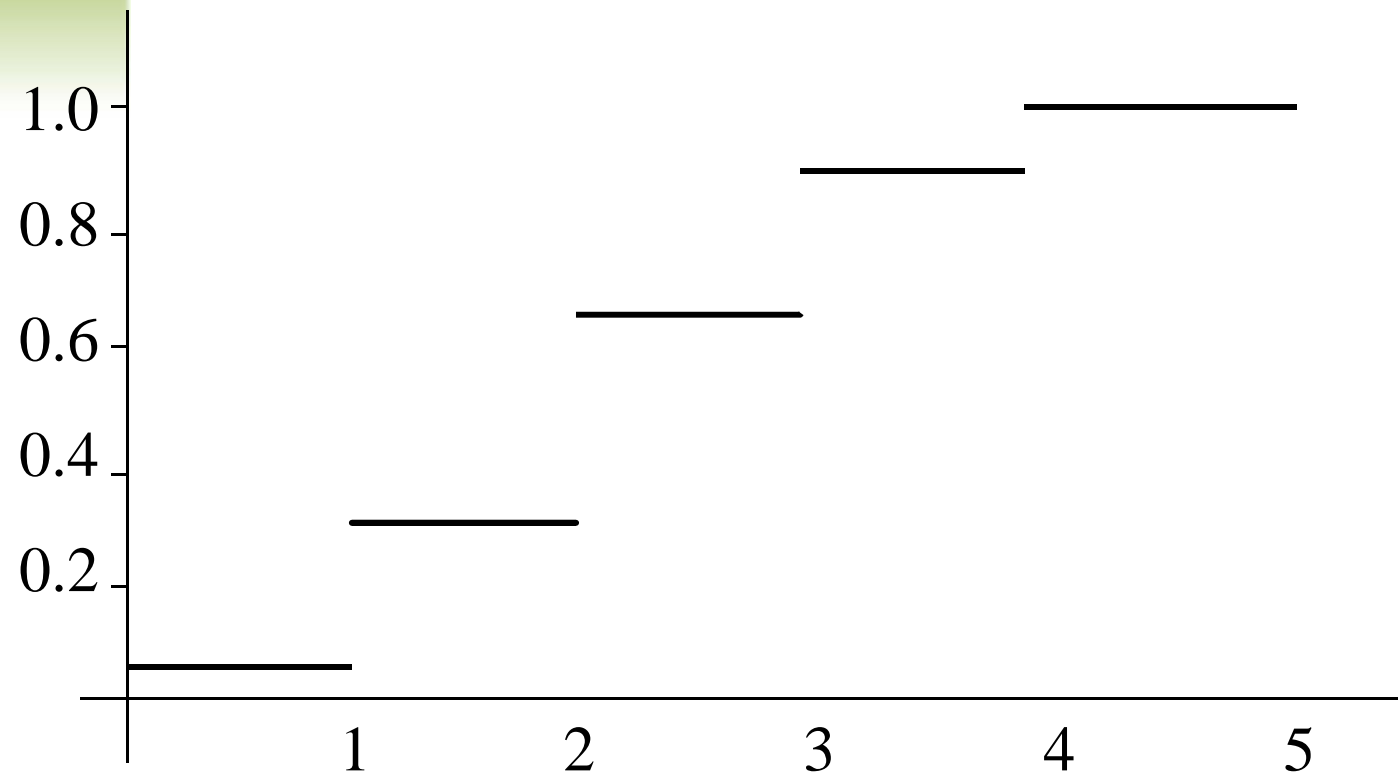
이다.

분포함수를 구해보면

$$F(x) = \begin{cases} 0 & (x < 0) \\ 1/16 & (0 \leq x < 1) \\ 5/16 & (1 \leq x < 2) \\ 11/16 & (2 \leq x < 3) \\ 15/16 & (3 \leq x < 4) \\ 1 & (4 \leq x) \end{cases}$$



그래프를 그려보면



각 선의 우측끝점은 비어있는 점이다.

## 제 4절 다항분포

- ⊙ 이항분포의 확장인 다항분포를 정의
- ⊙ 각 시행에서 결과가 정확히  $k$  가지일 때

## [정의] 다항분포

사상  $A_1, A_2, \dots, A_k$  의 어느 하나가 반드시 일어나고, 각각 일어날 확률이  $p_1, p_2, \dots, p_k$  인 시행을  $T$  라 하자.  $T$  를 독립적으로  $n$  회 시행했을 때,  $A_1, A_2, \dots, A_k$  등이 일어나는 횟수  $(X_1, X_2, \dots, X_k)$  는  $k$  개의 확률변수이고, 그 확률분포는

$$P\{(X_1, X_2, \dots, X_k) = (x_1, x_2, \dots, x_k)\} \\ = \frac{n!}{x_1! x_2! \cdots x_k!} p_1^{x_1} p_2^{x_2} \cdots p_k^{x_k}$$

단,  $x_1 + x_2 + \cdots + x_k = n, p_1 + p_2 + \cdots + p_k = 1$  이다.


이 확률분포를 다항분포(multinomial distribution)라 한다.

## 예제 9


어떤 과일이 상, 중, 하, 불합격의 4종류로 분류된다. 상은 25%, 중은 40%, 하는 25%, 불합격은 10%의 비율이라 할 때, 임의로 20개를 취하는 경우, 상, 중, 하, 불합격품이 각각 5, 8, 4, 3 개 포함될 확률을 구하시오.



상품(25%)




중품(40%)



뭘 먹을까?



하품(25%)



불합격품(10%)





[문제 0]

$$p = \frac{20!}{5! 8! 4! 3!} \left(\frac{1}{4}\right)^5 \left(\frac{2}{5}\right)^8 \left(\frac{1}{4}\right)^4 \left(\frac{1}{10}\right)^3$$